

Andreea Barbu

Silvia Fota

**Portofoliul MEU
de MATEMATICĂ**

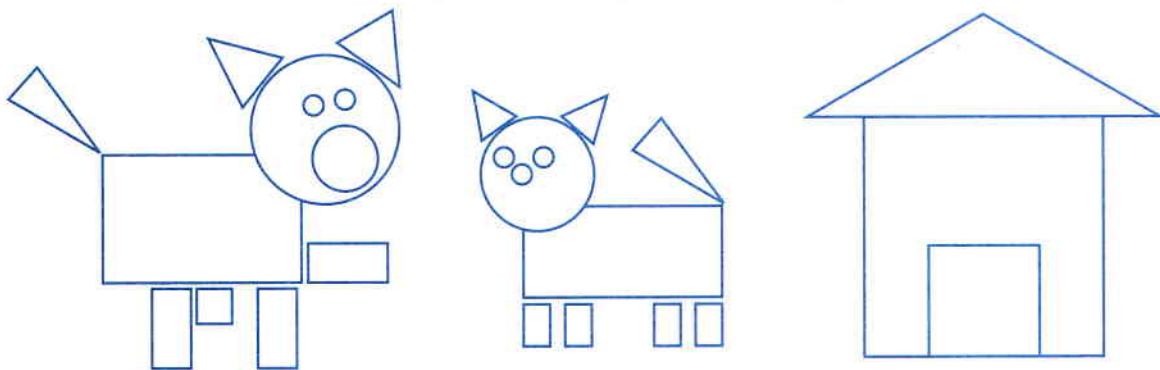
clasa I

1. Privește desenul următor. Colorează:

- norul aflat deasupra casei;
- pisica aflată jos;
- tufișul aflat în stânga.



2. Observă desenele, apoi completează enunțul de mai jos cu numărul corespunzător.



În desenele de mai sus sunt: ___ triunghiuri, ___ pătrate, ___ dreptunghiuri.

3. Completează mulțimile de obiecte corespunzător numărului din fiecare casetă.



4



6



3

4. Scrie „vecinii” numerelor.

— 5 —
— 10 —

— 8 —
— 29 —

— 12 —
— 17 —

5. Calculează.

$2 + 6 =$

$10 - 8 =$

$12 + 4 =$

$7 + 5 =$

$12 + 8 =$

$16 - 6 =$

6. Colorează doar numerele pare cuprinse între **10** și **20**.

14

11

9

10

25

18

13

22

12

7. Ana își dorește un zmeu care costă **18** lei. Ea are doar **10** lei. De câți lei mai are nevoie pentru a cumpăra zmeul?

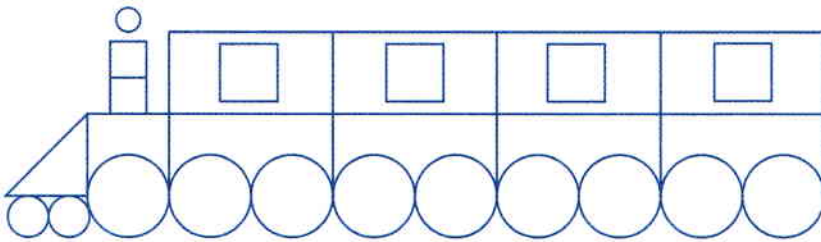
DESCRIPTORI DE PERFORMANȚĂ

Item	Foarte bine	Bine	Suficient
1.	Colorează corect trei elemente.	Colorează corect două elemente.	Colorează corect un element.
2.	Scrie numărul corect pentru toate figurile geometrice.	Scrie numărul corect pentru două figuri geometrice.	Scrie numărul corect pentru o figură geometrică.
3.	Completează corect toate mulțimile.	Completează corect două mulțimi.	Completează corect o mulțime.
4.	Rezolvă corect cinci-șase exerciții.	Rezolvă corect trei-patru exerciții.	Rezolvă corect două exerciții.
5.	Rezolvă corect cinci-șase operații.	Rezolvă corect trei-patru operații.	Rezolvă corect două operații.
6.	Colorează corect trei numere pare.	Colorează corect două numere pare.	Colorează corect un număr par.
7.	Identifică operația și calculează corect.	Identifică operația, dar greșește rezultatul.	Identifică operația, dar nu o rezolvă.

* Recapitulare din clasa pregătitoare * Numerele naturale de la 0 la 10 * Numerele naturale de la 10 la 31 * Numerele naturale de la 0 la 100 * Rotunjirea numerelor naturale

Recapitulare din clasa pregătitoare

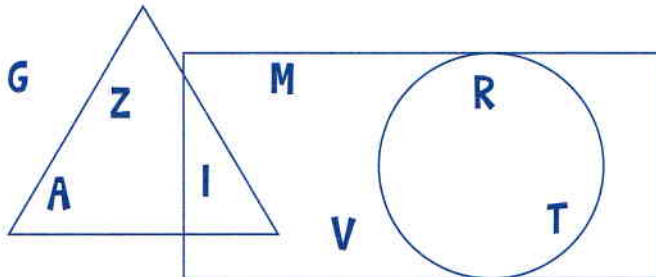
1. Recunoaște figurile geometrice care compun trenulețul și completează tabelul cu numărul acestora.



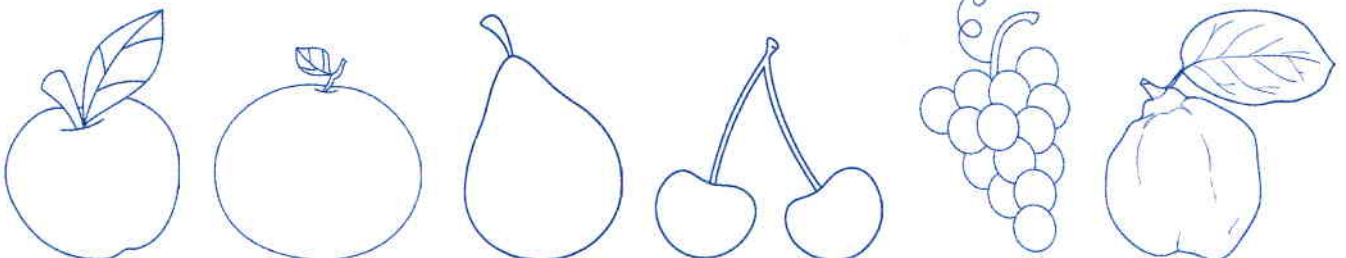
—	—	—	—

2. Privește imaginea de mai jos. Scrie literele:

- a) din interiorul triunghiului: _____;
 b) din interiorul cercului: _____;
 c) din exteriorul dreptunghiului: _____;
 d) din interiorul dreptunghiului: _____.

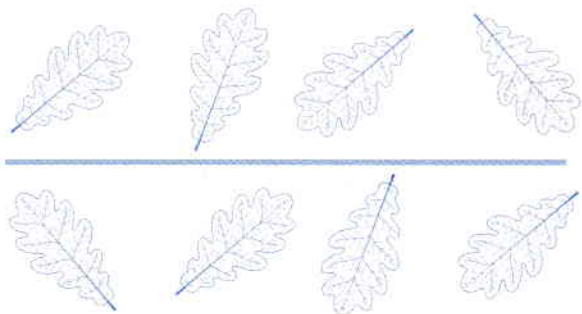


3. Colorează doar fructele de toamnă:




4. Colorează:


a) cu roșu frunzele aflate deasupra liniei;



b) cu maro frunzele aflate dedesubtul liniei.




5. Colorează cu verde obiectele aflate în spatele casei și cu roșu obiectele aflate în fața casei.



6. Observă regulile și continuă fiecare șir cu încă trei elemente.



7. Trasează cu creioane colorate drumul fiecărei buburuze până la floare.



8. Desenează:

- a) un ceas pe peretele din spatele fetei;
- b) o carte în dreapta fetei;
- c) o minge sub banca din stânga.

